

# MATEMÀTIQUES PER SANT JORDI



- ● ● El mapa de la rosa
- ● ● El codi de la rosa
- ● ● El valor de la rosa


# MATEMÀTIQUES PER SANT JORDI

## El mapa de la rosa

El Leo i la Gali, han trobat el mapa de la rosa.

Diu la llegenda que si segueixen les coordenades del mapa, aconseguirem trobar el dibuix que s'amaga en el punt de llibre de Sant Jordi.

Els ajudes a resoldre l'enigma?



## EL MAPA DE LA ROSA

En Leo i la Gali han trobat el **mapa secret de la rosa**.

Diu la llegenda que si **segueixes les coordenades** del mapa, descobriràs el dibuix amagat.

Els ajudes a resoldre l'enigma?

	1	2	3	4	5

3 3

	2		3		4		1	
	2		3		4		5	
	1		3		5			

# MATEMÀTIQUES PER SANT JORDI

## El codi de la rosa

El Leo i la Gali, han trobat els fragments perduts del codi de la rosa. Diu la llegenda que si segueixen les instruccions del codi, aconseguirem trobar el dibuix que s'amaga en el punt de llibre de Sant Jordi.

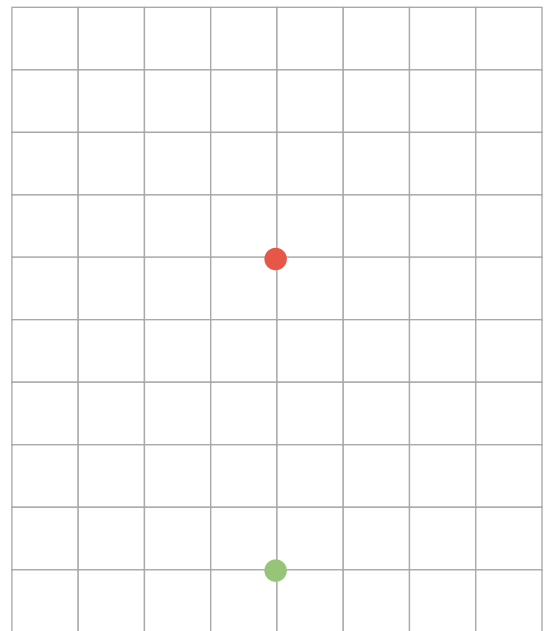
Els ajudes a resoldre l'enigma?





## EL CODI DE LA ROSA

En Leo i la Gali han trobat els fragments perduts del **codi de la rosa**. Diu la llegenda que si **segueixes les instruccions del codi**, hi descobriràs un dibuix amagat.

Els ajudes a resoldre l'enigma?



 3↑ 1← 1↓ 1→ 3↑

 3← 3↑ 1→ 2↓ 1→ 1↑ 2→

1↓ 1→ 2↑ 1→ 3↓ 3←

# MATEMÀTIQUES PER SANT JORDI

## El valor de la rosa

En Leo i la Gali s'han endinsat en una aventura per descobrir el valor de la rosa. En el camí, s'han trobat tres elements més: un llapis, un llibre i un drac.

Diu la llegenda que per descobrir el valor de cada element hem de fer deduccions! Els nombres indiquen la suma dels valors dels elements de cada fila o columna.



Els ajudes a resoldre l'enigma?



## EL VALOR DE LA ROSA

En Leo i la Gali s'han endinsat en una aventura per descobrir **el valor de la rosa**. En el camí, s'han trobat tres elements més.

Diu la llegenda que **per descobrir el valor de cada element hem de fer deduccions!** Els nombres indiquen la suma dels valors dels elements de cada fila o columna.

Els ajudes a resoldre l'enigma?

				26
				25
				16
				29

26

28

32

10

