

# MATEMÁTICAS EL DÍA DEL LIBRO



- ● ● El mapa de la rosa
- ● ● El código de la rosa
- ● ● El valor de la rosa

# MATEMÁTICAS EL DÍA DEL LIBRO

## El mapa de la rosa

Leo y Gali han encontrado el mapa de la rosa. Dice la leyenda que si siguen las coordenadas del mapa, conseguiremos encontrar el dibujo que se esconde en el marcapáginas de Sant Jordi.

¿Los ayudáis a resolver el enigma?



## EL MAPA DE LA ROSA

Leo y Gali han encontrado el **mapa secreto de la rosa**.

Dice la leyenda que si **sigues las coordenadas**, descubrirás el dibujo oculto.

¿Los ayudas a resolver el enigma?

☁					
☾					
☉					
☀					
★					
	1	2	3	4	5

3 ★ 3 ☀

2 ☉ 3 ☉ 4 ☉ 1 ☾  
 2 ☾ 3 ☾ 4 ☾ 5 ☾  
 1 ☁ 3 ☁ 5 ☁



# MATEMÁTICAS EL DÍA DEL LIBRO

## El código de la rosa

Leo y Gali han encontrado los fragmentos perdidos del código de la rosa. Dice la leyenda que si siguen las instrucciones del código, conseguiremos encontrar el dibujo que se esconde en el marcapáginas de Sant Jordi.

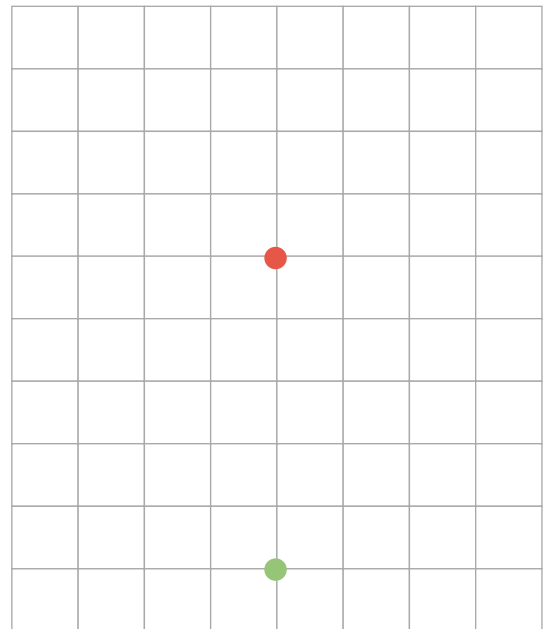
¿Los ayudáis a resolver el enigma?





## EL CÓDIGO DE LA ROSA

Leo y Gali han encontrado los fragmentos perdidos del **código de la rosa**. Dice la leyenda que si **sigues las instrucciones del código**, descubrirás un dibujo oculto.

¿Los ayudas a resolver el enigma?



 3↑ 1← 1↓ 1→ 3↑

 3← 3↑ 1→ 2↓ 1→ 1↑ 2→

1↓ 1→ 2↑ 1→ 3↓ 3←

# MATEMÁTICAS EL DÍA DEL LIBRO

## El valor de la rosa

Leo y Gali se han adentrado en una aventura para descubrir el valor de la rosa. En el camino, se han encontrado tres elementos más: un lápiz, un libro y un dragón.

Dice la leyenda que para descubrir el valor de cada elemento debemos hacer deducciones. Los números indican la suma de los valores de los elementos de cada fila o columna.



¿Los ayudáis a resolver el enigma?



## EL VALOR DE LA ROSA

Leo y Gali se han adentrado en una aventura para descubrir **el valor de la rosa**. En el camino, se han encontrado tres elementos más.

Dice la leyenda que **para descubrir el valor de cada elemento debemos hacer deducciones**. Los números indican la suma de los valores de los elementos de cada fila o columna.

¿Los ayudas a resolver el enigma?

				26
				25
				16
				29

26

28

32

10



.....



.....



.....



.....